

1. Aşağıdakilerden hangisi canlıdır?

- A. kapı B. mantar C. taş

2. Aşağıdakilerden hangisi cansızdır?

- A. yosun B. tavşan C. toprak

3. Aşağıdakilerden hangisi canlıdır?

- A. hava B. su C. arı

4. Aşağıdaki varlık çiftlerinden hangileri canlılık özelliği göstermez?

- A. toprak- su B. tavşan- karınca
C. mantar- papatya

5.

rüzgar

balon

çekirge

saksı

havuç

domates

Yukarıdakilerden kaç tanesi cansızdır?

- A. 4 B. 3 C. 2

6.

tavuk

kalem

deniz


balık

lale

gözlük

Yukarıdakilerden kaç tanesi canlıdır?

- A. 3 B. 4 C. 5

7.  Kendi besinlerini Güneş'in yardımıyla kendileri yaparlar.



Toprağa kökleriyle tutunurlar. Yukarıdaki özellikler aşağıdaki hangi canlıya aittir?

- A. İnsan B. tavuk C. ağaç

8. Aşağıdakilerden hangisi canlıların ortak özelliği değildir?

- A. Hareket etme
B. Yürüme
C. Solunum yapma

Aşağıdakilerden hangisi bitki ve hayvanların ortak özelliği değildir?

9.

- A. Kendi besinlerini kendileri yapar.
B. Çoğalır.
C. Solunum yapar.

10. Aşağıda bitkiler ile ilgili olarak verilen bilgilerden hangisi yanlıştır?

- A. Her yöne hareket edebilirler.
B. Kendi besinlerini üretebilirler.
C. Kökleriyle toprağa tutunurlar.



11. Aşağıdakilerden hangisi insan ve bitkilerin ortak özelliği değildir?

- A. Boşaltım yapar.
B. Hareket eder.
C. Kendi besinlerini kendisi üretir.

 büyür  beslenir  çoğalır
 hareket eder  boşaltım yapar

12. Yukarıdaki verilenlerden kaç tanesi bütün canlıların ortak özelliğidir?

- A. 3 B. 4 C. 5

13. I. mantar II. inek III. tavşan
Yukarıdaki canlılardan hangileri kendi besinini kendisi yapar?

- A. Yalnız I B. II-III C. I-III

14. Aşağıdakilerden hangisi bitkilerin yaptığı harekete örnek değildir?

- A. Bitki köklerinin suya yönelmesi
B. Yaprakların rüzgarla birlikte savrulması
C. Ayçiçeğinin Güneş'e dönmesi

15. Aşağıdaki canlılardan hangisi yumurtlayarak çoğalmaz?

- A. tavuk B. tavşan
C. kaplumbağa

16. Aşağıdaki canlılardan hangisi tohumla çoğalmaz?

- A. biber B. elma
C. güvercin


17. Aşağıdaki canlılardan hangisinin beslenme şekli diğerlerinden farklıdır?


- A. kurt B. keçi C. aslan

- ❖ Bitkiler hareket eder.
- ❖ Toprak canlı bir varlıktır.
- ❖ Su cansız bir varlıktır.
- ❖ Her canlı büyür ve gelişir.

18. Yukarıdaki ifadelerden kaç tanesi doğrudur?



- A. 4 B. 3 C. 2

 Bitkiler kendi besinini kendisi yapar.

 Hayvanlar kendi besinlerini kendisi üretemez.

 Canlılar enerjilerini besinlerden sağlar.

19. Yukarıdaki ifadelerden kaç tanesi doğrudur?

- A.  B. 
C. 