

Elektrikli araç-gereçler sayesinde işlerimizi daha kısa sürede yaparız.

Günlük hayatımızda kullanılan birçok araç-gereç elektrikle çalışır.

Elektrikli araç-gereçler işlerimizi kolaylaştırır.

1. Yukarıdaki verilen bilgilerden kaç tanesi doğrudur?

- A. 3 B. 2 C. 1

2. Aşağıdakilerden hangisi elektriğin yaşamımızı kolaylaştırdığına bir örnektir?

- A. Elektrikli süpürge ile temizliği çabucak tamamlarız.
B. Ders programı yapmak başarımızı artırır.
C. Dengeli beslenmek sağlığımız için önemlidir.

3. Aşağıdakilerden hangisi elektrikli bir ev aletidir?

- A.  ütü B.  halı C.  ayna

4. Aşağıdakilerden hangisi yanlış bir davranıştır?

- A. Elektrikli aletleri açma kapama düğmesinden kapatmak
B. Elektrikli aletleri kuru zeminde kullanmak
C. Elektrikli aletlerin içini açıp kurcalamak.






Bir ütüü çalıştırmak için ütünün fişini prize takarız.

5. O halde ütünün elektrik kaynağı ile ilgili hangi bilgi doğrudur?

- A. Batarya ile çalışır.
B. Pil ile çalışır.
C. Şehir elektriği ile çalışır.

6. Aşağıdakilerden hangisi şehir elektriği ile çalışan bir üründür?

- A.  B.  C. 

7. Aşağıdakilerden hangisi birkaç pilin bir araya gelmesiyle oluşan elektrik kaynağıdır?

- A. pil B. akü
C. batarya

8. Aşağıdakilerden hangisi akü ile çalışır?

- A. fırın B. kamyonet C. el feneri

9. Aşağıdakilerden hangisi şehir elektriği ile çalışmaz?

- A. televizyon B. sokak lambası
C. televizyon kumandası

3. Sınıf Fen Bilimleri Elektrikli Araçlar

10. Aşağıdaki eşleştirmelerden hangisi doğrudur?

- A.
- B.
- C.

11. 3. Sınıfa giden Göktürk aşağıdaki davranışlardan hangisini yapmalıdır?

- A. Biten pilleri geri dönüşüm kutusuna atmalıdır.
- B. Gündüz vakti lambaları yakmalıdır.
- C. Arızalı elektrikli araçları kendisi tamir etmelidir.

12.

1. sokak lambası	2. mikser
3. klima	4. el feneri

Yukarıdakilerden hangileri aydınlatma amaçlı araç gereçlerdendir?

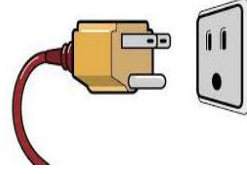
- A. 1-2 B. 2-3 C. 1-4

13. İlk pil kim tarafından icat edilmiştir?

- A. Alesandro Volta B. Edison
- C. Graham Bell

14. Aşağıdakilerden hangisi batarya ile çalışır?

- A. Cep telefonu B. Akıllı tahta
- C. Saç kurutma makinesi



15.

- A. priz B. fiş C. akü

Yandaki görselde aşağıdakilerden hangisi yoktur?

16.

Elektrik enerjisinin iletilmesinde aşağıdakilerden hangisi kullanılır?

- A. kablo B. lamba C. ısıtıcı

17.

Aşağıdakilerden hangisi elektrik kaynağı değildir?

- A.  pil B.  akü C.  lamba

18.

Elektrik çarpmış birine yardım için hangisi yapılmamalıdır?

- A. Elektriği kesmek için şalter kapatılmalı.
- B. Elektrikli aletin üzerine su dökülmeli
- C. Plastik eldiven takarak kuru bir tahta parçası ile elektrikli araç uzaklaştırılmalıdır.

19.

Aşağıdakilerden hangisi ısınma amacıyla kullanılan elektrikli bir araçtır?

- A. klima B. asansör C. ütü

20.

Elektrik arıza durumunda aşağıdaki numaralardan hangisi aranmalıdır?

- A.  112 B.  186 C.  110

